

دبستان پسرانه غیر دولتی فجر ندای جاوید



پیک تابستانه

تابستان ۱۴۰۳

پایه دوم

سال تحصیلی ۱۴۰۳ - ۱۴۰۲

تألیف: معلمان پایه‌ی دوم

نام و نام خانوادگی:

کلاس:



سلام به آرامگاه پر نورش

مصطفی در شهر مشهد زندگی می کند. زمانی که او در کلاس دوم بود، بیشتر وقت ها در کارخانه به مادرش کمک می کرد. روزی مادرش به او یک اسکناس ۵۰۰ تومانی و یک سکه ۲۵ تومانی و یک سکه ۱۰ تومانی داد که از مغازه ی سر کوچه یک شیشه شیر و مقداری نخود و لوبیا بخرد. مصطفی در ساعت ۹ از خانه خارج شد وقتی وسایل را خرید و برمی گشت، در کوچه یک کبوتر زخمی را دید که روی زمین افتاده بود. او به طرف کبوتر رفت. کبوتر ترسیده بود اما مصطفی به آرامی آن را گرفت و به طرف خانه آمد. وقتی به خانه رسید مادر گفت: نیم ساعت است که تو رفتی، چرا دیر آمدی؟ او گفت: مادر، این کبوتر را دیدم، دلم سوخت و خواستم به آن کمک کنم. مادرش وقتی دید که او به حیوان کمک کرده است خیلی خوشحال شد و گفت: پسرم خدا تو را دوست دارد. آن ها با هم بال زخمی کبوتر را با پارچه ای تمیز بستند. برایش آب آوردند و کمی دانه هم جلوی آن ریختند. چند روزی گذشت. حال کبوتر روز به روز بهتر شد. یک روز وقتی مصطفی و مادرش برای زیارت حرم امام رضا (ع) رفتند کبوتر را هم با خود بردند. مصطفی کبوتر را آزاد کرد تا به جمع کبوتر های حرم برود. حالا هر وقت به حرم می روند مصطفی به سراغ کبوتر ها هم می رود. او آن روز خوب را فراموش نمی کند.

- حالا به پرسش ها که در مورد داستان هستند ، جواب بده.

- مادر مصطفی به او چه قدر پول داده بود؟

- کدام ماده ای را که مصطفی خرید مایع بود؟

- اگر بخواهی برای پول ها یک نامساوی بنویسی، در هر کدام چه می نویسی؟

.....تومان >تومان >تومان

- چگونه می توانی فهمید که مصطفی نیکوکار است؟

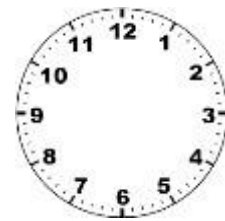
- دلیل خوش حالی مادر مصطفی چه بود؟

- کدام جمله در داستان نشان می دهد که غذای کبوتر چیست؟

ساعت برگشت به خانه



ساعت خارج شدن از خانه



1- وقتی زهرا به دنیا آمد مادرش ۳۷ سال داشت. حالا از آن زمان ۱۲ سال می گذرد.

الف) حالا مادر زهرا چند سال دارد؟

ب) حالا زهرا چند ساله است؟

ج) زهرا و مادرش روی هم چند سال سن دارند؟

2- مادر زهرا برای جشن تولد او ۵ بسته ماکارونی درست کرد که با هر بسته می توان به ۸ نفر غذا داد.

با این مقدار ماکارونی از چند نفر می توان پذیرایی کرد؟

3- احمد ۱۸۳ ریال داشت ۱۴۷ ریال هم از مادرش گرفت.

حالا احمد چند ریال دارد؟ مقدار پول او را در جدول ارزش مکانی قرار بده.

- اگر احمد یک شاخه گل ۱۳۰ ریالی برای مادرش هدیه بخرد چقدر پول برایش می ماند؟

4- اگر عقربه ی کوتاه ساعت روی عدد ۲ و عقربه ی بلند آن روی عدد ۷ باشد، چه ساعتی را نشان

می دهد؟

- ۲۵ دقیقه قبل و بعد این ساعت چه زمان هایی بوده است؟

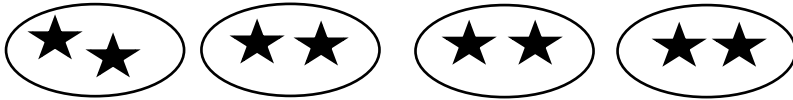
۵- علی می خواهد یک کتاب ۸۰۰ ریالی بخرد. اگر او ۵۲۸ ریال داشته باشد، برای خرید این کتاب چند ریال کم دارد؟

$$\begin{array}{r} 920 \\ - 509 \\ \hline \end{array}$$

۶- پاسخ جمع و تفریق زیر را به دست آورید. ۳۲۵

$$\begin{array}{r} 325 \\ + 184 \\ \hline \end{array}$$

۷- برای شکل جمله ی ضرب بنویس . تعداد را با استفاده از جمع هم پیدا کن .



داستان زیر را کامل کن و بنویس.

یکی بود.....غیر از خداروزی از دومین فصل سال کهنام دارد و ماه های

آن به ترتیب و و می باشد همراه پدرم به باغ میوه رفتم . در این فصل

همه جااست و درختانهوای باغ بسیار بود.

اولین بار بود که چنین جایی را می دیدم.تعدادی از کشاورزان

با خودم گفتم دوست دارم در این فصل آن روز را هرگز فراموش نمی کنم.

- حالا به این پرسش ها جواب بده.

یک سال چند فصل دارد؟.....چند ماه دارد؟.....چند روز دارد؟

عدد روزهای یک سال را به حروف بنویس.....این عدد چند رقم دارد؟

اگر روزهای فصل بهار و تابستان را از آن کم کنی چه قدر باقی می ماند؟

تو کدام فصل سال را دوست داری؟

به هر کدام از این کلمه ها (ان) اضافه کن: و یک جمله بنویس و هر سه کلمه را در آن استفاده کن.

درخت: بهار: ستاره:

- یک ضرب المثل بنویس که در آن نام دو رنگ آمده باشد.

- مرتب کن و کلمه بساز

- ر - ن - ا - ای ←

- ی - ز - ش - ر - ا ←

- ز - ا - و - ه - ا ←

- با توجه به کلمه ی داخل کمانک جمله را تغییر بده .

وحید کتاب خرید . (داستان)

..... (از کتابفروشی)

..... (دیروز)

..... (محله ی قدیمی)

- بند زیر را بخوان به سوال های داخل جدول پاسخ بده .

من ایرانی هستم . مثل همه ی مردان و زنان پر تلاش و با ایمان که در ایران زندگی می کنند، کشورم را دوست دارم . ما به کشور خود افتخار می کنیم و مانند قلّه ی دماوند، محکم و استوار آن را از حمله ی دشمنان حفظ می کنیم. کشور ما زیارتگاه ها و جاهای دیدنی بسیاری دارد. مثل بیستون کرمانشاه ، سی و سه پل اصفهان ، ماسوله گیلان و ...

	کلمه های دو نقطه ای
	کلمه های سه نقطه ای
	کلمه های پنج نقطه ای

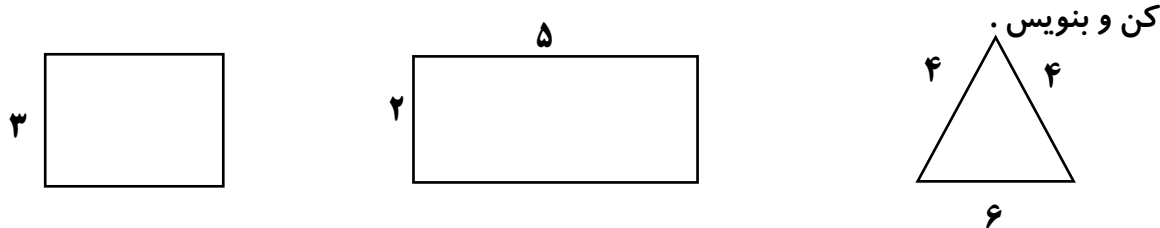
- با توجه به کلمه ای که داده شده ، شما به یاد چه کلمه های دیگری می افتید که به آنها مربوط است؟

جنگل ، ، ،

فصل ، ، ،

مدرسه ، ، ،

۸- (درس نامه) : به اندازه ی دور تا دور هر شکل محیط آن شکل می گویند. برای به دست آوردن محیط باید اندازه ی تمام ضلع ها را با هم جمع کرد. حالا با توجه به توضیح داده شده محیط این شکل ها را حساب



۹- اتوبوس مسیر زنجان - تهران را در ۳ ساعت و ۳۰ دقیقه طی می کند. اگر این اتوبوس ۹:۱۵ از زنجان حرکت کرده باشد ، چه ساعتی به تهران خواهد رسید ؟

۱۰- یک خانم روستایی از ۶ گوسفند و خروس نگهداری می کند . آن ها روی هم ۱۶ پا دارند. چند گوسفند و چند خروس در این خانه ی روستایی زندگی می کنند؟

۱۱- اول رابطه را در الگو پیدا کن و بعد ادامه بده .

۱۰۰ - ۱۰۲ - ۱۰۴ - ۱۰۶ - - - -

۱ - ۳ - ۶ - ۱۰ - ۱۵ - - - -

۸۶ - ۸۲ - ۷۸ - ۷۴ - - - -

۷ - ۸ - ۱۰ - ۱۳ - ۱۷ - - - -

۱۲- با سه کارت ۲ و ۹ و ۰ یک عدد سه رقمی بنویس که دهگانش ۰ باشد.

۳- کدام گزینه از ۶۷۸ کم تر است ؟

(۱) ششصد و هشتاد و هفت (۳) ششصد و هفتاد و هشت

(۲) هشتصد و هفتاد و شش (۴) ششصد و هشت

۱۴- مجموع رقم های کدام یک از عددهای زیر از بقیه کمتر است ؟

(۱) ۹۹ (۲) ۴۸۱ (۳) ۱۷۳ (۴) ۱۸۸

۱۵- کدام یک با ۷۲ سانتی متر برابر است .

(۱) ۷ سانتی متر و ۲ میلی متر (۳) ۷۲ میلی متر

(۲) ۲ سانتی متر و ۷ میلی متر (۴) ۷۲۰ میلی متر

۱۶- ورق هایی از یک کتاب کنده شده است . اگر شماره ی صفحه سمت راست ۱۲ باشد و شماره ی صفحه سمت چپ ۱۵ ، چند ورق از این کتاب کنده شده است ؟

الف (۱) ب (۲) ج (۳) د (۴)

۱۷- یک مرغ در هر روز یک تخم می گذارد. دو مرغ در چند روز ۶ تخم می گذارند؟

الف (۱) ب (۳) ج (۶) د (۹)

داستان را بخوان و به سوالات پاسخ بده.

یک خاطره

رضا در کلاس دوم بود. برای تعطیلی تابستان در کلاس های ورزشی ، آموزش هنر و شنا ثبت نام کرد. پدر و

مادرش در کارخانه ای کار می کنند. یک روز وقتی در ساعت ۷ صبح پدر و مادرش از خانه خارج

می شدند مادرش به او گفت: رضا جان صبحانه ات آماده است. وقتی بلند شدی آن را بخور. کلید را هم روی میز گذاشتم با خودت ببر تا وقتی برمی گردی پشت در نمایی. رضا نیم ساعت بعد، از رخت خواب بیرون آمد. پس از شستن دست و صورت خود صبحانه را خورد. به برنامه اش نگاه کرد. متوجه شد که باید به استخر شنا برود. به موقع حرکت کرد و رفت. ساعت ۱۲:۲۰ به خانه برگشت. وقتی خواست در را باز کند فهمید که کلید را برنداشته است.

پرسش ها را پاسخ بده.

-برنداشتن کلید رضا را با چه مشکلی روبه رو می کند؟

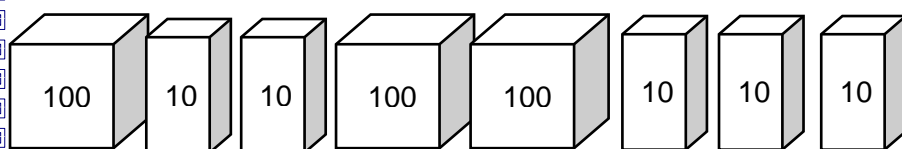
-اگر تو به جای رضا بودی چه می کردی؟

-رضا در چه ساعتی از رخت خواب بیرون آمد؟

-اگر او ساعت ۱۰ صبح به استخر رفته باشد پس از چند ساعت به خانه برگشته است؟

-شما چه غذاهایی را در صبحانه می خورید؟

۱۸- در یک روز گرم تابستانی حسن و حسین همراه خانواده شان به کنار دریا رفتند. آن ها برای انجام بعضی از کارهای هنری خود تعدادی صدف جمع آوری کردند و در جعبه های صدتایی و ده تایی قرار دادند. وقتی آن ها را شمردند ۴۶۰ صدف بود. شما شکل زیر را طوری کامل کنید تا برابر تعداد صدف ها شود.



الف) چه قدر به شکل های بالا اضافه کردی؟ عدد آن را بنویس.

ب) برای کاری که انجام دادی یک جمع بنویس که حاصل جمع ۴۶۰ شود.

۱۹- با رقم های (۳، ۵، ۰) عدد های سه رقمی بزرگتر از ۵۰۰ بنویس.

۲۰- اگر ۲۷۳ تا را از ۴۶۰ برداریم چه قدر باقی می ماند؟ حل کن.

۲۱- دلک های یک سیرک به صف ایستاده اند. فیروز به نوروز که پشتش ایستاده است گفت چهار همکار پشت من هستند و نوروز گفت فقط سه همکار از من جلوترند چند دلک در صف ایستاده اند؟

الف (۷ ب) ۸ ج) ۹ د) ۱۰

۲۲- مادر مریم ۶ جعبه ی یک جور مدادشمعی خرید . مریم همه ی مدادهای دوتا جعبه ها را خالی کرد . تعداد مداد شمعی های این دو جعبه ۱۸ تا بودند. مادر مریم چند دانه مداد شمعی خریده است؟

الف) ۲۶ ب) ۵۴ ج) ۲۴ د) ۱۰۸

۲۳. با رقم های ۰ و ۴ و ۵ و ۱ شش عدد فرد سه رقمی بنویس.

۲۴. بزرگترین عدد سه رقمی زوج بدون تکرار رقم ها چیست ؟

۲۵. کوچکترین عدد سه رقمی فرد کدام است ؟

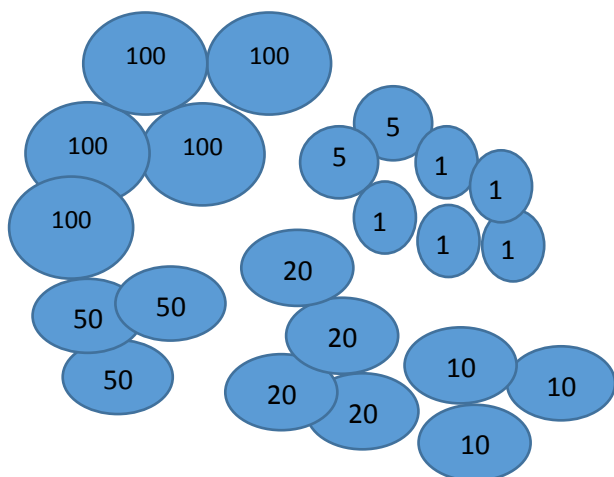
۲۶. یک عدد سه رقمی بنویس که یکانش بزرگترین عدد زوج یک رقمی و صدگانش کوچکترین عدد فرد یک رقمی و دهگانش کوچکترین عدد یک رقمی باشد.

۲۷. با رقم های ۶ و ۹ و ۳ عددهایی بنویس که جمع دهگان و صدگانش برابر با یکانش باشد.

۲۸. علی ۳ سکه ۱۰۰ ریالی، ۶ سکه ۱۰ ریالی و ۵ سکه ۵۰ ریالی داشت. او برای تولد دوستش دو کتاب داستان خرید که قیمت هر کدام ۱۸۰ ریال بود. حساب کن برای علی چند ریال باقی می ماند؟

۲۹. پریسا و سارا و سمیرا خواهر هستند. آن ها روی هم ۴۱ سال سن دارند. پریسا ۵ سال از سارا بزرگ تر است و سمیرا ۳ سال از سارا کوچک تر است. اگر سمیرا ۱۰ سال داشته باشد، سن سارا و پریسا را حساب کن.

۳۰. زهرا با سکه های زیر به خرید رفت و جنس های مقابل را خرید. با توجه به قیمت هر کالا، پس از خرید



برای زهرا چند ریال باقی می ماند؟

🏐 قیمت توپ ۲۳۰ ریال

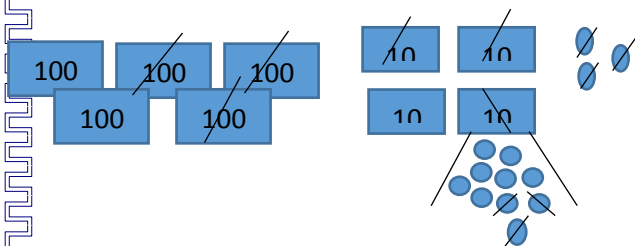
🍦 قیمت بستنی ۱۹۳ ریال

🌻 قیمت گل ۱۷۶ ریال

سعید	۲۶ سال	۱۲ سال
کوچک تر	برادر	؟

۳۱. با توجه به داده های جدول یک مسأله طراحی کن.

۳۲. برای شکل زیر یک تفریق بنویس.



۳۳. برای عبارت های کسری زیر شکل مناسب بکش .

الف) $\frac{3}{8}$ قسمت از ۸ قسمت مساوی رنگ شده .

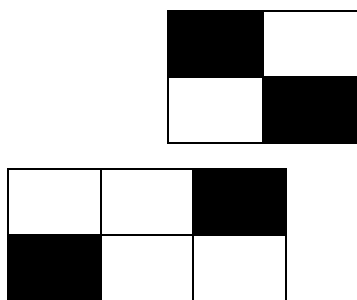
ب) $\frac{4}{6}$ قسمت از ۶ قسمت مساوی رنگ شده .

ج) $\frac{1}{3}$ قسمت از ۳ قسمت مساوی رنگ شده .

۳۴. جاهای خالی را با توجه به شکل کامل کن.

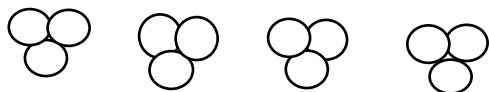
..... قسمت از قسمت مساوی رنگ شده .

..... قسمت از قسمت مساوی رنگ شده .



۳۵. برای شکل های زیر عبارت ضرب بنویس .

..... دسته ی تایی



..... دسته ی تایی



۳۶. با توجه به عبارت ضرب شکل بکش .

۳ دسته ی ۵ تایی

۶ دسته ی ۲ تایی

۳۷- آن چیست:

(الف) - چهار ضلع و چهار گوشه دارم. ضلع ها و گوشه هایم هم اندازه هستند.

(ب) - خطی هستم که اگر از روی من شکل را تا کنند، هر دو طرف کاملاً شبیه هم خواهند بود.....

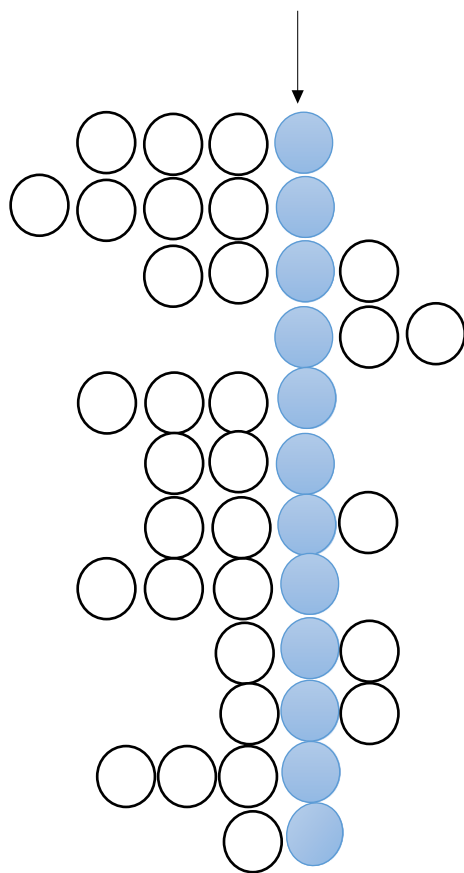
(ج) - عددی هستم که یکانم ارقام (۰، ۲، ۴، ۶، ۸) می تواند باشد.

- علی ۸۰۰ ریال داشت. او یک مداد ۱۲۵ ریالی و یک تراش ۲۷۹ ریالی خرید. حالا برای علی چند ریال باقی مانده است؟

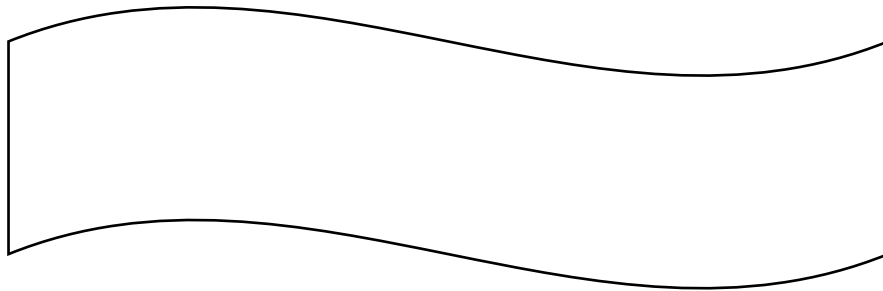
- در باغی ۴۰۰ نهال کاشته شده است. اگر ۸۹ نهال گردو و ۱۵۴ نهال گیلاس و بقیه ی نهال ها بادام باشند ، در این باغ چند نهال بادام داریم؟

- رضا ۸ سکه ی ۱۰۰ ریالی، ۳ سکه ی ۵۰ ریالی و ۶ سکه ی ۱۰ ریالی و ۹ سکه ی ۱ ریالی دارد. او ۵۷۸ ریال به دوستش داد. حالا رضا چند ریال دارد؟

* مخالف کلمه های داده شده را در جدول وارد کن. حروف ستون رنگی، رمز جدول است. آن را پیدا کن و بنویس.



- پیر
- ترش
- گریه
- سرد
- کوتاه
- جلو
- تمیز
- سالم
- سنگین
- بسته
- چپ
- زیاد



درباره ی رمز جدول آن چه که دوست داری در سه جمله بنویس.

بلبل و شکارچی

می گویند هر بلایى سر بلبل بیاید از زبان تند و تیز اوست. اما مگر کار اصلی بلبل خواندن آواز های زیبا نیست و مگر می شود بلبل بود و بی وقفه و سوزناک آواز نخواند.

شکارچی کاربلدی که آن نزدیکی ها کمین کرده بود، رد صدای بلبل را گرفت. و او را به دام انداخت. او در حالی که بلبل کوچک را میان دو دستش گرفته بود، از شکار خود بسیار خوش حال بود.

بلبل یکی دو بار بال و پر گشود تا از میان دست های شکارچی فرار کند، ولی مگر می شد از دست شکارچی طمع کار و خوش اشتیایی که شکارش را به زور به دست آورده بود، به راحتی در رفت؟

به همین دلیل، از سر سازش در آمد و شروع به التماس کرد: ((از جان پرنده ی ریزه میزه ای مثل من چه می خواهی؟ به فرض که مرا بخوری، مگر چه قدر از شکمت را می توانم پر کنم؟ اصلا من لای دندان های تو را هم پر نمی کنم، چه برسد به اینکه سیرت کنم.))

و بعد ادامه داد: ((تو که شکارچی قابلی هستی، برو پرنده ای بزرگ تر شکار کن. در عوض مرا رها کن تا به آواز خواندنم ادامه بدهم.))

شکارچی، حرف های بلبل را با خنده ای تلخ جواب دادو گفت: ((چرا تو فکر می کنی من احمقم؟ چرا باید تو را رها کنم و به فکر شکار دیگری باشم؟))

۱- به نظر شما منظور از ((هر بلایى سر بلبل بیاید، از صدای اوست.)) چیست؟

الف) بلبل با زبان خود حیوانات را اذیت می کند.

ب) پرندگان دیگر به آواز او حسود ی می کنند.

پ) شکارچیان می توانند با صدای بلبل، رد او را بگیرند.

۲- بلبل ترانه های خود را کجا می خواند؟

الف) کار جاده

ب) روی شاخه ی درختی بلند .

پ) در ساحل رود خانه.

۳- شکارچی به بلبل چه گفت؟

۴- ضرب المثل ((زبان سرخ ، سر سبز را می دهد بر باد)) چه ارتباطی با این داستان دارد؟

۵- با توجه به متن داستان کلمه هایی را که برای نخستین بار با آن آشنا شده اید را با معنی بنویسید.

معنی	کلمه

داستان را بخوان. ماجرای یک روز بارانی

مورچه کوچولو آهسته در باغ قدم می زد که ناگهان چشمش به یک دانه ی گیاه افتاد. با خودش گفت: بهتر است آن را یواش یواش به لانه ام ببرم: زیرا آذوقه ی خوبی برای زمستانم خواهد بود. همان طور که مورچه کوچولو دانه را هل می داد و می کشید نم نم باران شروع شد. مورچه به آسمان نگاه کرد و شمرده شمرده گفت: ای وای! تا باران تند تند نباریده باید کاری بکنم!

او نفس نفس زنان دانه را می کشید ولی هر قطره ی باران مانند سنگی به سرش می خورد و دانه را از دهانش جدا می کرد. نه یک بار، نه دوبار، بلکه چند بار این اتفاق افتاد. اما او هر بار، سریع بلند می شد و به راهش ادامه می داد. خلاصه مورچه کوچولو موفق شد دانه را به لانه اش ببرد. سپس کنار پنجره نشست و با لبخند به قطره قطره های باران نگاه کرد. او خوش حال و راضی بود.

حالا به پرسش های زیر پاسخ بده.

- به نظر تو خوش حالی مورچه از چه بود؟

- اگر تو جای مورچه بودی چه می کردی؟

۱- اگر تو جای نویسنده بودی داستان را چگونه شروع می کردی؟

- در داستان بعضی از کلمه ها تکرار شدند . مثل : یواش یواش ،شمرده شمرده ،
تو چه کلمه هایی را می شناسی که باهم می آیند؟

۳۷- عدد های فرد یک رقمی کدامند؟

۳۸- عددهای زوج یک رقمی کدامند؟

۳۹- در عددهای چند رقمی برای تشخیص زوج و فرد باید به عدد نگاه کنیم.

۴۰- دور اعداد زوج خط قرمز و دور اعداد فرد خط سبز بکش.

۲۵۲-۶۹۸-۳۰۰-۱۵۹-۶۵۱-۹۸۲-۷۵۴-۵۵۵-۷۵۹-۱۰۶-۵۹۹

۴۱- الگوها ادامه بده.

۲-۵-۹-۱۴

۱۰-۱۵-۲۰

۲۲-۲۵-۲۸

۴۲- با سکه ی ۱۰۰ ریالی ، ۵۰ ریالی و ۲۰ریالی مبلغ های زیر را جور کن .

۲۵۸ ریال

۳۰۶ ریال

۴۳- گسترده و باز شده اعداد زیر را بنویس.

$$۳۹۴ =$$

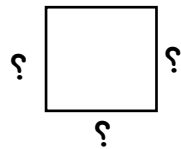
$$۷۱۰ =$$

$$۵۰۰ + ۸۰ + ۵ =$$

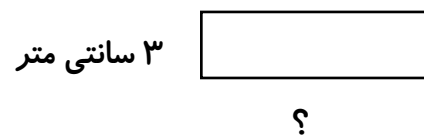
$$۶۰۰ + ۹ =$$

۴۴. عددهای خواسته شده در شکل های زیر را بنویس.

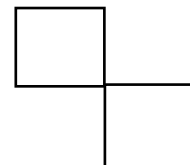
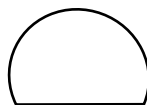
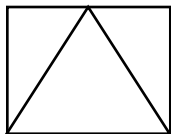
۶ سانتی متر



۵ سانتی متر



۴۵- برای شکل های زیر یک خط تقارن رسم کن.



۴۶. با کمک شابلون یک آدم رسم کن.

۴۷. برای دو شکل مستطیل و مثلث یک شباهت و یک تفاوت بنویس.

شباهت:

تفاوت:

۴۸. من چه عددی هستم؟

اگر ۴۷ واحد از من کم کنید، ۲۵۴ می شوم.

۴۹. مجید از عدد ۶۸ دوتا دوتا شمرد و به عدد ۷۲ رسید. در این شمارش عدد هشتم چیست؟

۵۰. جمع و تفریق های زیر را از راهی که دوست داری حل کن.

$$\begin{array}{r} 900 \\ -193 \\ \hline \end{array}$$

$$\begin{array}{r} 528 \\ +172 \\ \hline \end{array}$$

$$\begin{array}{r} 84 \\ +39 \\ \hline \end{array}$$

$$\begin{array}{r} 729 \\ -394 \\ \hline \end{array}$$

۵۱. در جاهای خالی عدد مناسب بنویس.

$$54 + \dots = 97$$

$$\dots + 32 = 84$$

$$\dots - 53 = 42$$

$$720 - \dots = 512$$

۵۲. با حذف یکان و دهگان به طور تقریبی جواب را به دست بیاور.


$$456 \rightarrow \dots$$

$$912 \rightarrow \dots$$

$$+279 \rightarrow \dots$$

$$-735 \rightarrow \dots$$

((فکر تازه))



روزی فاطمه و زینب با هم از نزدیک مغازه ی میوه فروشی رد می شدند به هم گفتند: « هر کدام درباره ی میوه ها از هم دیگر سؤال کنیم و دیگری جواب بدهد.»
اول فاطمه پرسید : در این میوه فروشی کدام میوه ارزان تر است؟
زینب گفت :
زینب پرسید : قیمت گران ترین میوه چند تومان از ارزان ترین میوه بیش تر است؟

فاطمه گفت :

فاطمه پرسید : اگر کسی برای مهمانی منزل خود یک کیلوگرم توت فرنگی و یک کیلوگرم انگور و یک کیلوگرم موز بخرد چقدر باید به میوه فروش پول بدهد؟

زینب گفت:

زینب پرسید: اگر کسی ۲ کیلوگرم زردآلو و ۲ و کیلوگرم خربزه بخرد چقدر باید پول بدهد؟

فاطمه گفت :

فاطمه پرسید : به نظر تو کدام یک از این میوه ها چند دانه ای است؟

زینب گفت : فکر می کنم : ولی بهتر است آزمایش کنیم چون توجه نکرده بودم.

آنها گفتند حالا مسأله ی بنویسیم که راه حل آن جمع و تفریق زیر باشد. تو هم مسأله را بنویس.

..... تومان $225 + 225 + 300 = 750$

..... تومان $800 - 750 = 50$

.....
.....
.....

زینب گفت : قیمت دو میوه را با هم جمع کن تا کم تر از قیمت یک میوه ی دیگر شود:

دو میوه : و : یک میوه : < +


فاطمه پرسید: زینب راستی تو می دانی که کار میوه در گیاه چیست؟

زینب گفت :

آنها از این که درباره ی میوه ها با هم گفت و گو کرده بودند خوشحال شدند. برای بازگشت به خانه سوار ماشین شدند. راننده جلوی خانه ی آنها ایستاد تا پیاده شوند. فاطمه و زینب از هم خداحافظی کردند و هر کدام به خانه ی خود رفتند.

..... راستی، راننده به چه کسی می گویند؟

..... میوه فروش به چه کسی می گویند؟



به کمک حروف جدول دو کلمه ی ۲ حرفی و سه کلمه ی ۳ حرفی و پنج کلمه ی ۴ حرفی درست کن و بنویس.

ر	ز	ل	ش	(۱)
پ	ه	ب	ن	(۲)
اُ	ک	ر	د	(۳)
ل	و	پ	ک	(۴)

.....	دو
.....	حرفی
	بدون نقطه باشد

.....	سه حرفی
.....	
.....	

.....	چهار حرفی
.....	
.....	
.....	

یک جمله بنویس که چند کلمه داشته باشد، هیچ کدام از کلمه ها نقطه نداشته باشند.

.....

یک جمله بنویس که چند کلمه داشته باشد، همه ی کلمه ها نقطه دار باشند.

.....

۵۳- در سالنی که جشن تولد رضا در آن برگزار می شود، ۹ میز چهار نفره گذاشته بودند. وقتی رضا و همه ی مهمان ها دور میز نشستند، ۷ صندلی خالی ماند. رضا چند مهمان داشت؟

الف (۲۹ نفر ب) ۲۸ نفر ج) ۲۷ نفر د) ۲۵ نفر


۵۴- حاصل جمع رقم های عدد ۲۰۱۱ کدام است؟

الف (۲۰۲ ب) ۳۱ ج) ۴ د) ۱۳

۵۵- وقتی مینو دنیا آمد، مانی چهارساله بود. حالا که مینو سه ساله است، مانی چند ساله است؟

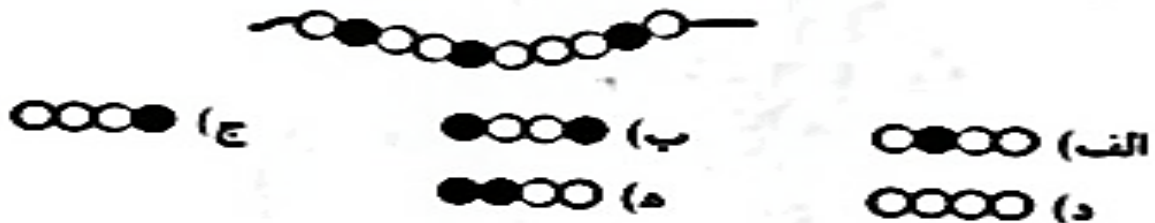
الف) ۱ ب) ۶ ج) ۷ د) ۸

۵۶- شکل زیر با چند مکعب درست شده است؟



الف (۷ ب) ۱۲ ج) ۱۳ د) ۱۴

۵۷- کدام مهره ها را باید به سمت راست رشته ی شکل زیر اضافه کنیم؟



۵۸- پارسا ربع ساعت صبحانه خورد و بعد از آن ۵ دقیقه مسواک زد این دو کار او چند دقیقه طول کشیده است؟

الف) ۱۵ دقیقه ب) ۲۵ دقیقه ج) ۲۰ دقیقه د) ۳۰ دقیقه


۵۹- دقیقه شمار کدام ساعت زیر بیشتر حرکت کرده است؟

الف) دو و نیم ب) ۲:۲۰ ج) ۲:۱۵ د) یک ربع مانده به سه

« داستان را بخوان »

داستان موش و شتر

روزی، یک موش جوان که خودش را باهوش می دانست از راهی گذشت. موش جوان سوت می زد و آواز می خواند و می رفت. ناگهان چشمش به شتری افتاد که مشغول چریدن بود. با خودش گفت: « بهتر است این شتر را بدزدم. جلو رفت و طنابی که از گردن شتر آویزان بود را گرفت و شتر را به دنبال خود کشید. شتر کنجکاو شد. خواست بداند چه فکری در سر موش است؛ به همین دلیل حرفی نزد و همراهش به راه افتاد. موش با خوش حالی در دلش می گفت: « هر کس من را ببیند می فهمد چقدر قوی هستم که شتر را به دنبال خود می برم» رفتند و رفتند تا به جوی پر آبی رسیدند. موش ایستاد و گفت: « حالا چطوری رد بشوم؟» شتر در دلش خندید و پرسید: « چرا نمی روی؟! برو، من هم پشت سرت می آیم.» موش گفت: « آه، آب خیلی زیاد است. من می ترسم.» شتر با صدای بلند خندید و گفت: « تو می ترسی رد بشوی؟ تو قوی هستی که شتر به این بزرگی را دنبال خودت میبری. صبر کن من در آب می روم، بین چقدر عمق آب کم است.» شتر این را گفت و رفت وسط آب رودخانه ایستاد. موش گفت: « آب تا زانوی تو است چون تو بزرگ هستی ولی من غرق می شوم.» موش تازه متوجه اشتباهش شد و با التماس از شتر خواست او را ببخشد. شتر او را از آب عبور داد. موش هم قول داد که دیگر به خودش مغرور نشود..



از کدام قسمت داستان خوشتر آمد؟ چرا؟

اشتباه موش چه بود؟

به نظر تو کار شتر درست بود؟ چرا؟

اگر شتر موش را از آب رودخانه عبور نمی داد، موش با چه مشکلی روبرو می شد؟

.....

- کلمه های زیر را دسته بندی کن .

پسر - شهر - جانور - راه - دانه - مرد - کتاب - شانه - دختر - معلم

	فقط با "ها" می توان جمع بست
	فقط با "ان" می توان جمع بست

هر قسمت را بخوان و پاسخ بده :

۱) هر سه کلمه ی (دندان، تمیز، معمولاً) را در جمله ای به کار ببر و دو جمله متفاوت بنویس.

الف)

ب)

۲) در هر دسته از کلمه های زیر یک کلمه با بقیه تفاوت دارد. آن کلمه را پیدا کن. سپس دلیل تفاوت آن را با بقیه ی کلمه ها بنویس.

الف) به اضافه، مساوی، کم تری، شش، منها. به چه دلیل؟

ب) میوه فروش، کشاورز، بنا، طلا. به چه دلیل؟

ج) خرگوش، گوسفند، گاو، طاووس، اسب. به چه دلیل؟

د) لوبیا، عدس، گندم، سنگ، تخم خربزه. به چه دلیل؟

۶۰) امروز شنبه هفتم ماه است؟ شنبه ی بعد چندم ماه است؟

۶۱) امروز روز نهم ماه است. سه هفته ی بعد چندم ماه است؟

۶۲) چهارشنبه دوم آبان ماه است. علی هر چهارشنبه کلاس موسیقی دارد:

الف) تا آخر این ماه علی چند بار به کلاس موسیقی می رود؟

ب) چه تاریخ هایی باید به کلاس موسیقی برود؟

۶۳) الف) برای ۴ دسته ی سه تایی شکل بکش.


ب) برای سه دسته ی چهار تایی شکل بکش.

۶۴) کامل کن.

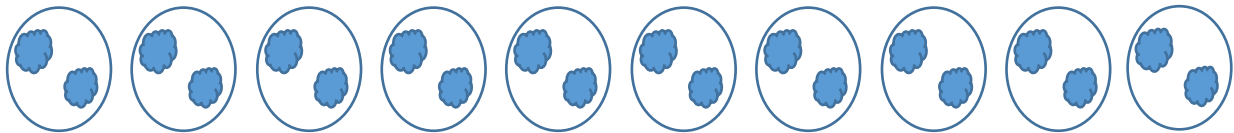
الف) سه دسته ی ۷ تایی می شود؟

ب) ۸ دسته ی ۳ تایی می شود؟

۶۵) برای شکل های زیر یک عبارت ضرب بنویس.



.....دسته ی تایی می شود



۶۶)

.....دسته ی تایی می شود.....تا.....

۶۷) جمع و تفریق های زیر را با حذف یکان و دهگان به صورت تقریبی به دست آورید.

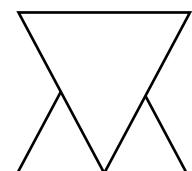
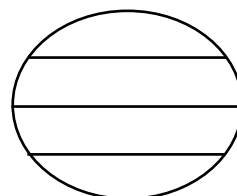
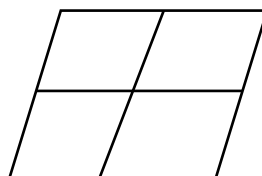
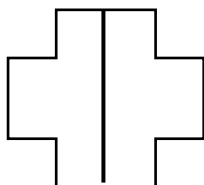
$$\begin{array}{r} 325 \\ + 343 \\ \hline \end{array} \quad \begin{array}{l} \longrightarrow \dots\dots\dots \\ \longrightarrow + \dots\dots\dots \end{array}$$

$$\begin{array}{r} 706 \\ - 343 \\ \hline \end{array} \quad \begin{array}{l} \longrightarrow \dots\dots\dots \\ \longrightarrow - \dots\dots\dots \end{array}$$

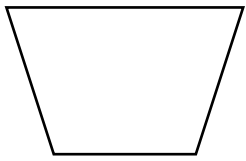
$$\begin{array}{r} 692 \\ - 250 \\ \hline \end{array} \quad \begin{array}{l} \longrightarrow \dots\dots\dots \\ \longrightarrow - \dots\dots\dots \end{array}$$

$$\begin{array}{r} 409 \\ + 249 \\ \hline \end{array} \quad \begin{array}{l} \longrightarrow \dots\dots\dots \\ \longrightarrow + \dots\dots\dots \end{array}$$


۶۸) در شکل های زیر کدام یک به قسمت های مساوی تقسیم شده اند.




۶۹) کنار هر شکل تعداد ضلع ها و گوشه های آن را بنویس.



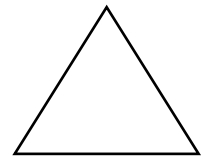
گوشه:.....
ضلع:.....



گوشه :
ضلع :



گوشه :
ضلع :




گوشه :
ضلع :

۷۰- تولد علی پنجشنبه بود و تولد دوستش محمد ۸ روز قبل از تولد علی . روز تولد محمد چه روزی از هفته بود؟

الف) چهارشنبه ب) پنجشنبه ج) جمعه د) سه شنبه

۷۱- چند دوچرخه در شکل می بینید




د) ۶

ج) ۵

ب) ۴

الف) ۳

۷۲- کدام عروسک در شکل زیر نیست ؟



۷۳- سینا ۳ مداد ۲۰۰ ریالی و یک تراش خرید و ۷۵۰ ریال به فروشنده داد. قیمت تراش چند ریال است ؟

۷۴- محمد یک کتاب هدیه گرفت که ۱۱۰ صفحه دارد. او صفحه ۹۹ تا آخر کتاب را رنگ کرده، محمد چند صفحه را رنگ کرده است؟

الف) ۱۱ ب) ۱۲ ج) ۱۶ د) ۱۷

۷۵- علی ۶۵۰ ریال پول داشت او از مادرش ۵ سکه ۲۰ ریالی و از پدرش هم دو سکه ۵۰ ریالی و ۱۲ سکه ۱۰ ریالی گرفت حالا علی چند ریال دارد؟

۱) این شعر را یک بار در دلت، سپس با صدای بلند بخوان، این شعر را برای دیگران هم بخوان.



* این شعر تو را به یاد کدام درس فارسی می اندازد؟

در شعر بالا کلمه هایی که حرف (و) در آن ها صدای (و) می دهد را جدا کن و بنویس.

.....

* در کدام کلمه حرف (و) صدای (اُ) دارد؟

* این شعر از چند کلمه ساخته شده است؟

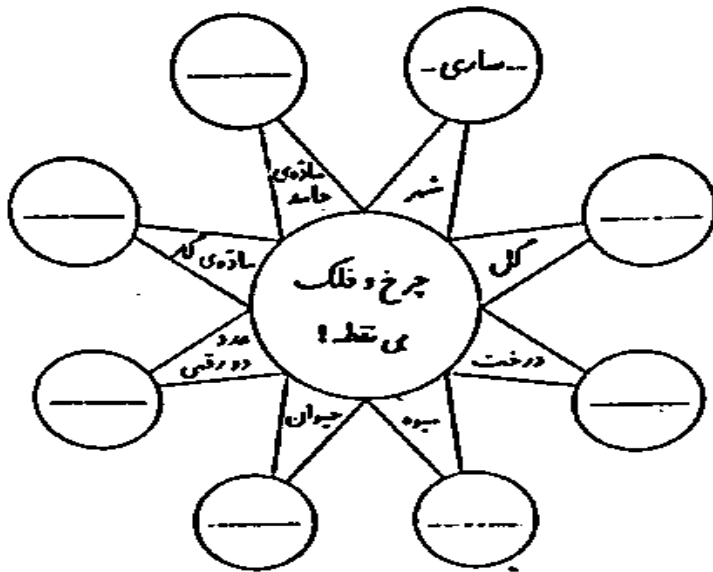
* عدد کلمه ها چند یکی و چند ده تایی است؟

* اگر یک صد تایی به آن اضافه کنیم چه عددی به دست می آید؟

* عددی را که نوشتی از ۳۰۰ کم کن، باقی مانده چند می شود؟

بازی با کلمه

۳) برای هر کلمه مانند نمونه یک کلمه بنویس.



بازی با عددها و حروف

۷۶) عددها را از کمتر به بیشتر و از چپ به راست مرتب کن و با توجه به حروف همراه هر عدد جمله ی رمز را پیدا کن.

الف) بزرگ ترین عدد کدام است؟


ب) کوچک ترین عدد کدام است؟

۳۸۶	۳۷۰	۲۱۵	۳۵۶	۳۷۹	۳۵۲
ت	الف	الف	الف	س	ب
۱۲۱	۲۴۶	۲۱۱	۲۳۶	۳۶۱	۲۲۳
خ	ر	د	هـ	ن	م

ترتیب عددها:

رمز عددها:

۷۷- این کفشدوزک می خواهد روی گلی بشیند که ۵ گلبرگ و ۳ برگ دارد. روی کدام یک از گل ها می نشیند؟




۷۸- اگر از → شروع به حرکت کنیم ، به ترتیب به کدام شکل ها می رسمیم ؟



(ب) ● ■ ▲
(د) ● ▲ ■

(الف) ● ■ ▲
(ج) ■ ▲ ●
(ه) ▲ ● ■

۷۹- تعداد مربع های خاکستری چندتا بیشتر از مربع های سفید است ؟



(د) ۹

(ج) ۸

(ب) ۷

(الف) ۶

۸۰- مجید دو دفتر که هر کدام ۳۲۵ ریال بود را خرید و از پولش ۲۸۶ ریال باقی ماند مجید در ابتدا چند ریال

پول داشته است ؟

۸۱- با سه رقم ۱، ۲، ۳ چند عدد سه رقمی بدون تکرار می توانیم بسازیم؟

(د) ۱۲

(ج) ۸

(ب) ۶

(الف) ۳

۸۲- به ۵۴ میلی متر چند میلی متر اضافه کنیم تا ۶ سانتی متر شود ؟

۸۳- چهارده بچه در دو صف مساوی ایستاده اند در هر صف چند بچه ایستاده است؟

۸۴- بیست و پنج دقیقه قبل از ساعت ۸:۴۰ دقیقه را بنویسید .

۸۵- کارگاه ریاضی هر روز ساعت ۵ بعدازظهر شروع می شود. علی امروز ۱۵ دقیقه دیر به کلاس رسید او چه

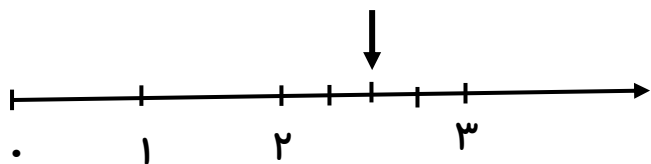
ساعتی در کارگاه ریاضی حاضر شد؟

۸۶-بازی فوتبال در دو نیمه ۴۵ دقیقه ای انجام می شود و بازیکنان بین دو نیمه مدتی استراحت می کند. اگر

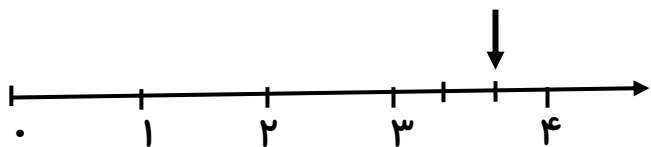
بازی ساعت ۱۰:۵۰ شروع شود و ساعت ۱۲:۴۰ تمام شود مدت استراحت بین دو نیمه چند دقیقه بوده

است؟

۸۷- جاهای خالی را عدد مناسب بنویسید.



..... واحد و قسمت از قسمت مساوی



..... واحد و قسمت از قسمت مساوی

(۱) با کلمه های داخل پرانتز جمله را کامل کن.

❖ با پدر و مادرم کنار رودخانه (نشسته بودند، نشسته بودیم، نشسته بود)

❖ یک باره باد تندی وزید و خاک را بر سر و رویمان (ریختی، ریختم، ریخت)

❖ در همین موقع صدای گنجشکی را شنیدم. (قارقار، هو هو، جیک جیک)

❖ معلوم بود پرنده از پایین افتاده است. (خانه اش، لانه اش، قفسش)

۲) در شهر یا روستای شما به کلمه های زیر چه می گویند. (کلمه ها را به زبان محلی خودت بنویس.)

پدر	مادربزرگ	درخت	گوجه فرنگی

خانه	آب	برادر	نان

۳) چند کلمه ی محلی را که خودت دوست داری بنویس.

.....

بازی با کلمه ها

۴) مانند نمونه با جابه جا کردن نقطه های هر کلمه، کلمه ی جدیدی بساز و در جای خالی آن بنویس.

تار	زبان	بازی	خواهر
.....	بام	کیف	جواهر

۵) با یکی از کلمه هایی که نوشته ای جمله ی خنده دار بنویس.

.....

۶) کلمه ها را از نظر معنی از کوچک به بزرگ مرتب کن.

..... شهر - استان - خانه - مدرسه - کشور

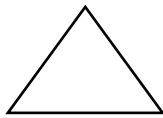
..... بهار - سال - هفته - روز - ماه



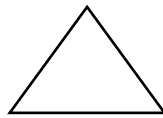
۸۸) علی می خواهد برای تولد دوستش کارت تبریک بخرد. آقای فروشنده گفت اگر یکی از کارت های طبقه ی بالا را برداری ۱۲۵ تومان تخفیف دارد، علی با خود فکر کرد تخفیف یعنی چه؟
 علی این کارت را انتخاب کرده، اما نمی داند چقدر باید به فروشنده پول بدهد، آیا شما می توانید به او کمک کنید؟

۸۹) اگر سینه ۷ سکه ی ۱۰۰ ریالی و ۱۵ سکه ی ۱۰ ریالی و ۷ سکه ی ۱ ریالی داشته باشد و ۵۲۸ ریال آن را خرج کند، برایش چند ریال باقی می ماند؟

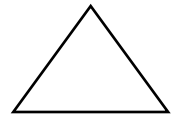
۹۰) شکل ها را به قسمت های مساوی خواسته شده تقسیم کن.




۲ قسمت مساوی




۳ قسمت مساوی




۴ قسمت مساوی



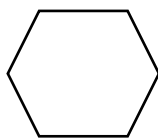
۳ قسمت مساوی



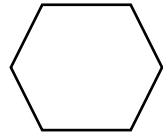
۵ قسمت مساوی



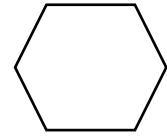
۶ قسمت مساوی



۳ قسمت مساوی



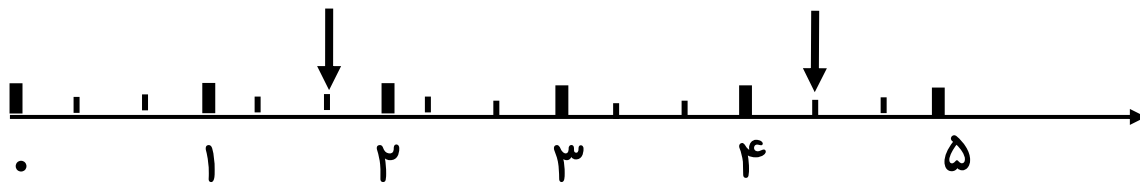
۲ قسمت مساوی



۶ قسمت مساوی

۹۱) محور زیر را از ۰ تا ۱۰ به قسمت های مساوی تقسیم کن.
 الف) بین واحد های ۳ و ۴ را به ۵ قسمت مساوی تقسیم کن.
 ب) نقطه ی ۳ واحد و ۲ قسمت از ۵ قسمت مساوی را نشان بده.

۹۲) با توجه به محور جای خالی را کامل کن.



الف) واحد و قسمت از قسمت مساوی.

ب) واحد و قسمت از قسمت مساوی.

۹۳. طول دفترچه ی رضا ۹۳ میلی متر است . یعنی طول دفترچه ی او چند سانتی متر و چند میلی متر است؟

۹۴. هر ده میلی متر برابر است با یک سانتی متر .

حالا شما بگو :

- ۸۰ میلی متر یعنی سانتی متر.

- ۷ سانتی متر یعنی میلی متر .

- ۳۸ میلی متر برابر است با سانتی متر و میلی متر .

۹۵. الف) چهار وسیله نام ببر که برای اندازه گیری طول آن از واحد میلی متر استفاده می کنیم.

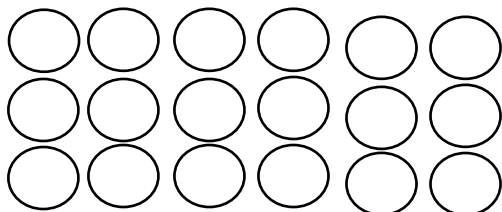
ب) چهار وسیله نام ببر که برای اندازه گیری طول آن از واحد سانتی متر استفاده می کنیم.

۹۶- علی دیروز ساعت ۴:۱۵ بعدازظهر از خانه راه افتاد و امروز ساعت ۶:۳۰ به خانه مادر بزرگ در شهر

اهواز رسید او چند ساعت و چند دقیقه در راه بود؟

۹۷- دوازده کتاب روی میز گذاشته شده بود. هر دانش آموز ۳ کتاب از روی میز برداشت در این اتاق چند دانش آموز بود؟

۹۸- شکل مقابل را با سه روش دسته بندی کن و برای آن جمله ی ضرب بنویس.



.....

.....

.....

۹۹- پاسخ کدام تفریق زیر با باقی مانده ی تفریق $۶۷۱ - ۳۸۹$ برابر است؟

(د) $۶۶۹ - ۳۹۱$

(ج) $۷۷۱ - ۴۸۹$

(ب) $۷۰۰ - ۳۱۸$

(الف) $۶۸۱ - ۳۹۸$

۱۰۰- حاصل عبارت $۵ + ۵ + ۵ + ۱۰۰ + ۲۰۰ + ۲۰۰$ کدام گزینه است؟

(د) ۶۵۵

(ج) ۵۶۰

(ب) ۶۵۰

(الف) ۵۶۵

۱۰۱- کدام گسترده مربوط به عدد ۸۹۴ است؟

(الف) $۴۰۰ + ۹۰ + ۸$

(ب) $۹۰۰ + ۴۰ + ۸$

(ج) $۸۰۰ + ۹۰ + ۴$

(د) $۴ + ۹۰۰ + ۸۰$

۱۰۲- علی ، احمد و رضا با هم ۵۰۰ ریال دارند، اگر پول علی و احمد با هم برابر باشد و رضا ۱۰۰ ریال داشته باشد پول علی چند ریال است؟

۱۰۳- با توجه به جمله ی داده شده شکل بکشید.

سه دسته ی ۷ تایی می شود.....

سه قسمت از ۷ قسمت مساوی رنگ شده است.

۱۰۴- اگر ساعت ۳ باشد ، سه ساعت و نیم دیگر ساعت چند است؟

۱۰۵- در الگوها ابتدا رابطه پیدا کن و بعد ادامه بده

۸۰۰-۸۰۱-۸۰۳-۸۰۶ - - -

۴۸-۵۰-۵۴-۶۰ - - -

داستان گرگ ، مادر و کودک

گرگی برای پیدا کردن خورد و خوراک همه جا را زیر پا گذاشت. هر چه این طرف و آن طرف رفت، چیزی پیدا نکرد. آخر سر، از ناچاری از روی دیوار کوتاه یک خانه ی روستایی درون حیاط پرید و با کمال تعجب ، مقابل در ورودی خانه یک کپه حیوان را دید که دور هم جمع شده بودند. با وجود آن که مثل همه ی

گرگ ها از نزدیک شدن به خانه ی انسان ها می ترسید، قدری به خود جرات داد و باز هم به خانه نزدیک شد. ناگهان صدای مادر خانه را شنید. مادر از دست کودک خود عصبانی شده بود و داشت بر سرش داد

می کشید: ((ای وای ... سرم رفت. اگر یک بار دیگر گریه کنی، تو را می دهم به آقا گرگه...))

گرگ که این حرف را شنید، خیلی خوش حال شد و آب از دهانش راه افتاد. با خود گفت: ((امروز بخت یار من است. بدون هیچ زحمتی، یک بچه ی تپل مپل به دست آوردم. خدا کند این بچه باز هم زرزر کند.))

بچه باز هم شروع به گریه کرد. گرگ دست هایش را به هم مالید و برای آن که مادر بچه او را ببیند، قدری بیش تر به خانه نزدیک شد. می خواست به مادر بچه نشان دهد که لازم نیست زیاد زحمت بکشد، گرگ با پای خود برای خوردن بچه آمده است. مادر به محض آن که سر و کله ی گرگ را دید، چنان جیغی کشید که در یک لحظه، تمام همسایه ها ریختند و با بیل هایی که در دست داشتند آن قدر گرگ را زدند که نایی برای او باقی نماند.

گرگ که از بچه و حیوانات خانه چیزی نصیبش نشد، با سر و صورت زخمی پا به فرار گذاشت.....

۱- مادر چرا فرزند خود را می ترساند که او را به گرگ خواهد داد؟

الف) به دلیل گرسنه بودن گرگ.

ب) به سبب گریه ی کودک.

پ) به دلیل خسته شدن مادر از گریه ی کودک.

۲- گرگ برای این که بچه باز هم شروع به گریه کند، چه کار کرد؟

الف) دعا کرد.

ب) زوزه کشید.

پ) دندان هایش را به فشار داد.

۳- گرگ در پایان داستان چه کار کرد؟


۱۰۶) بلیط یک کنسرت ۳۷۹ تومان است. برای خرید ۲ بلیط چند تومان باید پرداخت کرد؟

۱۰۷) پدر محمد ساعت ۷:۲۰ از خانه به اداره رفت و ساعت ۱۲:۵۰ به خانه برگشت. او چند ساعت و چند دقیقه بیرون از خانه بوده است؟

۱۰۸) کتابخانه ی دبستان ایمان ۲۸۳ کتاب دارد و کتابخانه ی دبستان صبا ۱۹۹ کتاب بیشتر از دبستان

ایمان کتاب دارد. آنها روی هم چند کتاب دارند؟

به جدول زیر نگاه کن. هشت کلمه ی ورزشی به صورت عمودی و افقی در آن وجود دارد. آنها را پیدا کن و دور آنها خط بکش



ض	ح	ح	گ	ل	ف	ه	ت
ف	و	ت	ب	ا	ل	ظ	ن
ص	ب	ا	س	ک	ی	غ	ی
م	ی	ش	ی	ز	ن	ن	س
ق	س	ش	ن	ا	ل	ت	ی
ی	ب	س	ک	ت	ب	ا	ل
د	ا	ک	ض	ض	و	ک	ه
و	ل	ی	خ	م	د	ظ	غ



در هر جدول حرف هایی که بیش از یک بار تکرار شده خط بزن تا کلمه ی مورد نظر را پیدا کنی. آن را روی خط جلوی جدول بنویس.

ا	س	د	ک	ی
و	ل	ب	ث	د
ش	ی	ع	و	ر
د	ه	ک	ل	ش
ی	س	ث	م	ع



ن	ب	س	و	ک
ط	م	ج	ل	ه
ل	ت	د	ش	ج
و	د	ن	ا	ط
ر	ک	ش	ب	م



به تصاویر با دقت نگاه کن. حالا با شماره گذاری آنها از ۱ تا ۴ داستان آن را پیدا کن.

